

彰化縣福興國中一一一學年度第二學期社會科八年級補考題庫

一、單選題：

- (C) 1. 小琪在觀看電視臺製播的歷史劇，戲劇中出現大批示威抗議民眾高舉著「外爭主權，內除國賊」、「誓死保衛山東」等訴求的海報標語。這齣歷史劇的時代背景反映出下列哪項史實？
(A) 立憲運動 (B) 二次革命 (C) 五四運動 (D) 新文化運動
- (A) 2. 埃及為世界四大古文明國之一，受西亞文化影響深遠。該國大部分的居民信奉下列哪個宗教？
(A) 伊斯蘭教 (B) 印度教 (C) 猶太教 (D) 基督教
- (D) 3. 在我國，如果違反或不履行《民法》上所產生的義務，就必須承擔哪種責任？
(A) 負刑事責任，入獄服刑 (B) 付行政責任，逕處罰單 (C) 負民事責任，拘役或罰金 (D) 負民事責任，強制其履行義務或強制其賠償
- (C) 4. 《少年事件處理法》中，對於已經觸犯刑罰或有可能犯法的少年，如果認為情節輕微，那麼少年法院可以做出哪種處分？
(A) 拘役 (B) 罰金 (C) 保護管束 (D) 有期徒刑
- (A) 5. 下列是哆啦A夢一群人在暑假的打工情形，其中哪個打工環境符合《勞動基準法》對於少年的保護規定？
(A) 靜香下午3點到7點在補習班擔任接線生 (B) 在工地綁鋼筋的胖虎 (C) 專門在7-ELEVEN上例假日班的大雄 (D) 一天在製鞋工廠工作10小時的哆啦A夢
- (A) 6. 「印度是世界四大文明古國之一，神祕古文明魅力、豐富人文風情，是旅人一生必遊之地。尤其每年的這個時間，正是印度一年之中最舒爽的季節，是旅遊的絕佳時機。」上文中的「這個時間」應該是下列何時？
(A) 11~2月 (B) 3~5月 (C) 7~8月 (D) 9~10月
- (C) 7. 李大成是清末民初(甲)居住在上海的知識分子，他(乙)擲棄「父母之命」，主張自由戀愛，平日以(丙)長袍馬褂的打扮在各大校園裡(丁)鼓吹白話文運動。根據當時的背景，上述對於李大成的描述，何者有誤？
(A) 甲 (B) 乙 (C) 丙 (D) 丁
- (B) 8. 附表為經濟部智慧財產局新聞稿摘要，畫底線處屬於下列何種行政救濟？
知名餐飲集團日前推出新品牌「丰禾日麗」臺菜餐廳，但向經濟部智慧財產局申請註冊商標時，卻遭經濟部智慧財產局以已有類似商標早在3年前註冊，因此依《商標法》規定，「丰禾日麗」不得註冊。該集團不服，決定依法提起權利救濟程序爭取權益。
(A) 請願 (B) 訴願 (C) 行政訴訟 (D) 彈劾糾舉
- (D) 9. 柯南到一家偵探公司上班，卻被剝削其福利，且公司為了節省人事成本，沒有幫柯南申請勞健保。柯南可以根據下列何部法律提出行政救濟？
(A) 《民法》 (B) 《憲法》 (C) 《公平交易法》 (D) 《勞動基準法》
- (A) 10. 《刑法》是國家為了維護正義與保障人權所制定

的法律。依據《刑法》，下列何者不屬於犯罪行為？

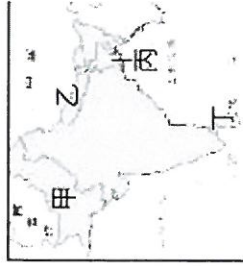
- (A) 上網抱怨政府施政 (B) 酒後駕車 (C) 結夥強劫商家 (D) 跟同學鬥毆
- (B) 11. 「行政管制」的目的應為下列何者？
(A) 解釋法律 (B) 維護社會秩序，增進公共利益 (C) 彈劾公務人員 (D) 審核行政院提出的決算
- (D) 12. 日本在太平洋戰爭期間，大肆向外宣傳大東亞共榮圈，其理念為「將東亞、東北亞、南亞、大洋洲等地從歐美列強的統治中解放，建立相互尊重、彼此獨立、共存共榮的新秩序。」此理念在太平洋戰爭後造成甚麼影響？
(A) 東亞國家都懷念日本統治 (B) 東南亞各國今日仍是歐美殖民地 (C) 軍國主義在東南亞借屍還魂 (D) 成為東南亞諸國脫離殖民統治的契機
- (B) 13. 附圖中的詩是民初諷刺某日本侵華事變的詩作，就其內容判斷，此詩應該是在諷刺下列哪場事變？

告急軍書夜半來，開場弦鼓又相催。
瀋陽已陷休回顧，更抱阿嬌舞幾回。

(A) 七七事變 (B) 九一八事變 (C) 一二八事變 (D) 蘆溝橋事變
- (D) 14. 馬歇爾調停結束回到美國後，美國匯集官員的報告及觀察，於1949年發表《中美關係白皮書》，白皮書嚴詞批評，表示中華民國在國共內戰的失敗，是國民政府本身的領導問題，與美國無關，隨後，美國停止對中華民國軍事援助。若從該白皮書發表後的局勢發展來看，下列哪一個描述是正確的？
(A) 美國派馬歇爾調停國共關係的任務是成功的 (B) 《中美關係白皮書》站在同情國民政府的立場 (C) 美國自此與中華民國政府斷交 (D) 此報告最後導致國民政府在內戰中的失敗
- (D) 15. 我國與美國曾因為某條約的簽訂，而維持密切的關係。美國因為此條約的簽訂，給予我國許多方面的援助，但這一切隨著兩國之間的斷交後而結束。上述的條約為下列何者？
(A) 《上海公報》 (B) 《臺灣關係法》 (C) 《中美聯合公報》 (D) 《中美共同防禦條約》
- (C) 16. 區域合作在第二次世界大戰以後，成為各國重要的課題。東南亞許多國在1967年成立的區域統合組織為下列何者？
(A) 世界貿易組織 (B) 東南亞公約組織 (C) 東亞國家協會 (D) 亞太經貿合作組織
- (A) 17. 附圖是靜香在複習公民時寫的筆記。根據我國《民法》規範，圖中的內容主題，應為下列何者？

土地、房屋、樹木……等不易移動之物。

(A) 不動產 (B) 動產 (C) 輔助宣告 (D) 監護宣告
- (C) 18. 某國主要信奉伊斯蘭教，位於南亞恆河、布拉瑪普特拉河與梅克納三大河川匯流入海之處，境內支流與大小湖泊眾多，但國土有70%不到海平面1公尺，因此常發生淹水的問題。此地區位在附圖中的何處？

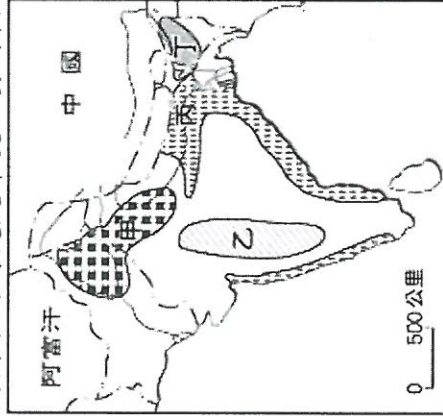


(A) 甲 (B) 乙 (C) 丙 (D) 丁

(A) 19. 東南亞有佛塔寺院，也有伊斯蘭教的清真寺和天主教堂；宗教、風俗、民族、語言相當多元。此種特色最可能與下列哪項因素有關？


(A) 特殊的位置 (B) 發達的農業 (C) 多樣的氣候 (D) 破碎的島嶼

(C) 20. 印度教的食物女神是「安娜普拉夏那」，有「滿滿的稻米」之意，這代表稻米在印度擁有至高的地位，而印度也是世界重要的稻米生產與輸出國。附圖中的何處是印度主要的稻米種植區？

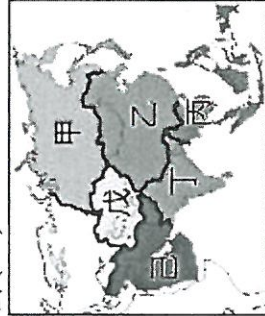


(A) 甲 (B) 乙 (C) 丙 (D) 丁

(C) 21. 圖(一)為亞洲某個區域性經濟組織的會徽圖，其背景為藍色，10 棵稻草被填在一個紅圈內，這 10 棵稻草代表此區域性經濟組織的南亞 10 個成員國。該組織最可能位於圖(二)中的何處？



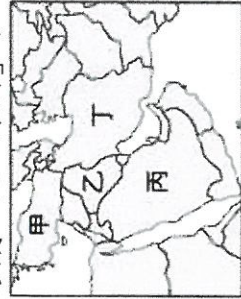
圖(一)



圖(二)

(A) 甲 (B) 乙 (C) 丙 (D) 丁

(C) 22. 在西亞乾燥的氣候環境中，水成為當地非常珍貴的資源。附圖中哪一個國家的居民主要利用抽取深層地下水灌溉棉花，在沙漠地區開墾新農地，形成「人工綠洲」？



(A) 甲 (B) 乙 (C) 丙 (D) 丁

(A) 23. 「北韓因實行(甲)專制獨裁的政治體制，重視(乙)民生工業。其主要貿易對象為(丙)俄羅斯，較少

與他國互動，也因發展核武後受到國際經濟制裁，人民處於饑荒與貧窮。近年來隨著兩韓關係解凍，除了與南韓共同開發(丁)珠海經濟特區外，也與中國在邊境設立自由貿易區，加速產業現代化。」上文敘述何者正確？

(A) 甲 (B) 乙 (C) 丙 (D) 丁

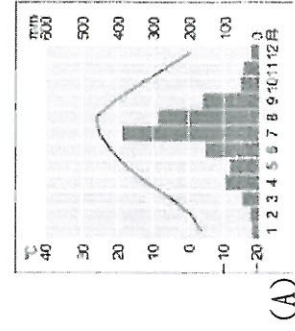
(D) 24. 2016 年鴻海集團正式併購日本夏普企業，此舉使得鴻海可整合面板事業，提升競爭力。鴻海集團投資日本企業可獲得最有利的生產條件為下列何者？

(A) 廉價勞力 (B) 工廠土地 (C) 礦產原料 (D) 進步技術

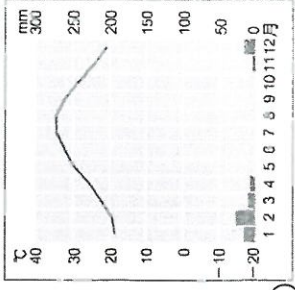
(B) 25. 『1990 年，土耳其在幼發拉底河的上游建造西亞最大的水壩——阿塔圖克水壩，而阿塔圖克，正是土耳其國父的名字。該水壩的完工不僅每年可供應大量的電能，也讓土耳其東部至敘利亞的邊境一帶獲得水資源，其中，哈爾蘭平原和周邊的土地從原本荒蕪的沙漠，到如今四處可見耕作中的農田。』

雖然阿塔圖克水壩帶動附近地區經濟、農業甚至觀光的发展，但築壩攔水的結果導致下游國家的抗議，由於流域內的國家都各自宣稱有其用水權，導致水資源爭奪成為國際衝突的導火線。』

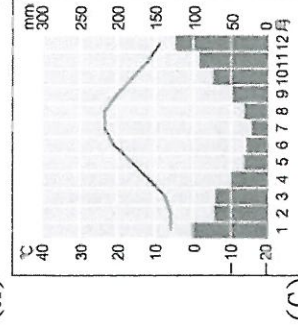
依據上文，哈爾蘭平原的氣候圖應為下列何者？



(A)



(B)



(C)

(B) 26. 小文：「網路上有許多免費影片供人點閱瀏覽，不論是自拍的影像，或是部分行車記錄器所儲存的畫面，都可能是我們代表國家主動出擊、追訴犯罪行為的重要依據。」根據上述內容判斷，下列何者最可能是小文的職權之一？

(A) 審理總統彈劾案 (B) 偵查毒品走私案件 (C) 判決侵權者賠償損失 (D) 負責調解告訴乃論案件

(B) 27. 附圖是小尹在網路論壇發文，有關文中契約的解讀，何者正確？

我爸爸一口氣借給朋友 250 萬，但是雙方沒有簽借據。最近家裡又多出許多開銷，萬一對方向藉口不還錢，我真的不知道要怎麼周轉。

(A) 以口頭約定方式締約，沒有法律效力 (B) 口頭約定的借貸契約，仍有法律效力 (C) 借貸必須作成書面的方式，才有法律效力 (D) 借貸契約必須至法院登記，才有法律效力

(C) 28. 14歲的小影為了完成歷史老師指定的作業，用歷歲錢買了一張臺北故宮博物院的特展門票。上述行為的法律效力為何？

- (A)小影為無行為能力人，故此行為無效 (B)小影為限制行為能力人，須父母同意才有效 (C)完成學校作業符合日常生活必需行為，因此有效 (D)小影已經是完全行為能力人，因此法律行為有效

(A) 29. 律師小琳前往南一國中演講，在簡報中展示了附表。依據內容判斷，對於表中的◆◆，以下敘述何者正確？

刑罰	相同處	相異處
◆◆ 徒刑	兩者皆為 自由刑	◆◆期間較短 徒刑期間較長

- (A)處罰是限制人身自由 (B)該處罰是指褫奪公權 (C)是違反《民法》的處罰 (D)要負起損害賠償的責任

(A) 30. 阿耀聽到新聞播報：「南投發生4死1傷的槍擊案……。」根據上述內容判斷，下列對此案件的解讀，何者正確？

- (A)檢察官可以馬上開始進行案件的調查 (B)被害者家屬委任律師提告後開始偵查 (C)法官可對重大刑事犯罪主動參與蒐證 (D)警察在偵查結束之後對嫌犯提起公訴

(B) 31. 小芬在政府網站看到附表的規定，政府制定此規定的主要目的為下列何者？

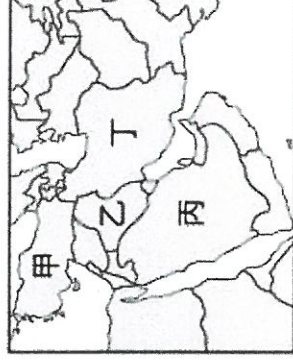
電影分級	說明
普遍級	一般觀眾皆可觀賞
保護級	未滿6歲兒童不得觀賞 6歲以上未滿12歲兒童須 父母、師長或成年親友陪 伴觀賞
輔12級	未滿12歲兒童不得觀賞
輔15級	未滿15歲之人不得觀賞
限制級	未滿18歲之人不得觀賞

- (A)給予兒少意見自由 (B)保障兒少身心健康 (C)維護兒少最佳利益 (D)禁止對兒少的歧視
(C) 32. 「江陵端午祭」在2005年成功申報為非物質的文化遺產，該祭典是市民慶祝端午節時的傳統習俗，端午為農曆五月初五，又稱端陽，從中國的民族端午節流傳到朝鮮半島後，融入了朝鮮族的民族特色。上述的文化遺產屬於下列哪個國家？

(A)中國 (B)北韓 (C)南韓 (D)日本
(B) 33. 附圖為暑假旅遊團即將前往東南亞某國的旅遊景點，以該國聚落內居民的特殊生活方式為主要觀光導覽，但不巧的是，當地正下著滂沱大雨，此降水類型最可能屬於下列何者？



- (A)地形雨 (B)對流雨 (C)鋒面雨 (D)颱風雨
(C) 34. 信奉伊斯蘭教的教徒，在條件允許下，一生中必須至少到聖地麥加朝聖一次，該聖地位於附圖中的何處？



(A)甲 (B)乙 (C)丙 (D)丁

(D) 35. 幾位同學正在討論孫文的生平事蹟。下列哪一位同學的說法是正確的？

- (A)樂思：「與有志之士鼓吹維新運動進行改革。」
(B)慈優：「推動自強運動，企圖挽救清末頹勢。」
(C)貝伊：「主張模仿西方君主立憲制度以救國。」
(D)羅迪：「主張以革命的方式，推翻滿清統治。」

(B) 36. 幾位同學在討論新文化運動推行之際的社會樣貌，哪一位同學的說法符合史實？

- (A)花甲：「領導者是通过科舉考試的知識分子。」
(B)乙宣：「不斷將歐美的文化與思想引進中國。」
(C)丙宏：「目標在延續清末成功的改革經驗。」
(D)丁怡：「進步的專制思想取代了民主共和。」

(C) 37. 《建國大綱》紀錄了孫文對於中華民國的建國規劃，一共分為三個階段規劃。關於這三個階段依序為下列何者？

- (A)專制→共和→民主 (B)極權→民主→共和
(C)軍政→訓政→憲政 (D)神權→皇權→民權
(C) 38. 老師介紹某位歷史人物的生平如附圖。該人物為下列何者？

★剿共期間取得共產黨領導權
★因大躍進的失敗而下臺
★發動文革再次奪權

(C) 39. 冷戰期間，兩大陣營避免全面性衝突的產生，但仍有的戰爭受到冷戰局勢影響？

- (A)孫文 (B)蔣中正 (C)毛澤東 (D)張學良
(A)日本 (B)印度 (C)越南 (D)菲律賓
(A) 40. 南海蘊藏豐富的天然資源，為周圍各國必爭之地，近年來爭議不斷。下列者並非與南海爭議相關的國家？

- (A)泰國 (B)中國 (C)越南 (D)汶萊

彰化縣福興國中——學年度第二學期社會科
八年級補考題庫答案卷

一、單選題：

- 1.(C) 2.(A) 3.(D) 4.(C) 5.(A)
6.(A) 7.(C) 8.(B) 9.(D) 10.(A)
11.(B) 12.(D) 13.(B) 14.(D) 15.(D)
16.(C) 17.(A) 18.(C) 19.(A) 20.(C)
21.(C) 22.(C) 23.(A) 24.(D) 25.(B)
26.(B) 27.(B) 28.(C) 29.(A) 30.(A)
31.(B) 32.(C) 33.(B) 34.(C) 35.(D)
36.(B) 37.(C) 38.(C) 39.(C) 40.(A)